

**ФОНД  
ОЦЕНОЧНЫХ СРЕДСТВ**

по окружающему миру для 2 класса  
на 2022-2023 учебный год.

*1 четверть.*

**Входная контрольная работа**

**Вариант 1.**

Задание 1. Подчеркни только осенние месяцы.

*Сентябрь, январь, декабрь, октябрь, февраль, ноябрь, март.*

Задание 2. Когда улетают перелётные птицы? Подчеркни правильный ответ.

*1) осенью 2) зимой 3) весной 4) летом*

Задание 3 На какой картинке изображён клён? Обведи правильный ответ.



Задание 4. Какая птица изображена на картинке? Укажи стрелкой

- 1) ворона
- 2) голубь
- 3) снегирь

Задание 5. Подчеркни только съедобные грибы:

- 1) подберёзовик
- 2) маслёнок
- 3) мухомор
- 4) лисичка

5) поганка

Задание 6. Обведи только перелётных птиц.

- 1) воробей
- 2) грач
- 3) скворец



Подчеркни только хищников.

Задание 7.

- 1) заяц
- 2) тигр
- 3) корова
- 4) орёл

Задание 8. Сколько ног у пауков, обведи правильный ответ.

- 1) 2            2) 4            3) 6            4) 8

Задание 9. Соедини стрелками.

Осязание  
слух  
обоняние  
зрение  
вкус

Задание 10. Как называется орган человека, который помогает различать разные цвета? Отметь правильный ответ.

- 1) ухо
- 2) глаз
- 3) рука
- 4) нос


Задание 11. Что можно сказать о здоровом человеке? Отметь правильные ответы.

- 1) занимается физкультурой, много гуляет, имеет хороший аппетит
- 2) курит, бледный, мало гуляет
- 3) чистит зубы два раза в день
- 4) плохо ест, часто болеет

Задание 12. Подчеркни в скобках правильный ответ.

1. Наша страна называется ... (*Русь, Москва, Россия*).
2. Столица России — город ... (*Санкт-Петербург, Москва, Великий Новгород*).

Задание 13. Раскрась Государственный флаг нашей страны.



Задание 14. Подчеркни только государственные символы России.

- 1) скипетр
- 2) гимн
- 3) Кремль
- 4) флаг
- 5) герб
- 6) звезда

### Входная контрольная работа

#### Вариант 2.

Задание 1. Подчеркни только весенние месяцы.

*Сентябрь, апрель, декабрь, май, февраль, ноябрь, март.*

Задание 2. Когда возвращаются перелётные птицы? Подчеркни правильный ответ.

- 1) осенью    2) зимой    3) весной    4) летом

Задание 3 На какой картинке изображена ель? Обведи правильный ответ.



Задание 4. Какая птица изображена на картинке? Укажи стрелкой

- 1) Попугай
- 2) Ласточка
- 3) Дятел

Задание 5. Подчеркни только ядовитые грибы:

- 1) сыроежка
- 2) подосиновик
- 3) мухомор
- 4) груздь
- 5) поганка

Задание 6. Обведи только зимующих птиц.

- 1) синица
- 2) соловей
- 3) ворона

Задание 7. Подчеркни только рыб.

- 1) окунь
- 2) щука
- 3) корова
- 4) орёл

Задание 8. Сколько ног у насекомых. Обведи правильный ответ.

- 1) 2          2) 4          3) 6          4) 8

Задание 9. Запиши название органа чувств.

Осязание - руки (кожа)

Слух - \_\_\_\_\_

Обоняние - \_\_\_\_\_

Зрение - \_\_\_\_\_

Вкус - \_\_\_\_\_

Задание 10. Как называется орган человека, который помогает различать разные запахи? Отметь правильный ответ.

- 1) ухо
- 2) глаз
- 3) рука
- 4) нос

Задание 11. Чего нельзя сказать о здоровом человеке? Отметь правильные ответы.

- 1) по утрам делает зарядку, правильно питается, много времени проводит на свежем воздухе
- 2) злоупотребляет сладким, много времени проводит за компьютером и у телевизора
- 3) моет руки перед едой, закаляет свой организм
- 4) боится холода, часто простужается

Задание 12. Продолжи предложения.

Наше государство называется \_\_\_\_\_.  
Я живу в городе (селе, деревне) \_\_\_\_\_.

**Задание 13.** Перечисли цвета, которые есть на Государственном флаге нашей страны.

\_\_\_\_\_.

**Задание 14.** Что не является государственными символами России? Отметь (V) правильные ответы.

- 1) флаг
- 2) герб
- 3) корона
- 4) храм
- 5) гимн
- 6) дворец

Контрольная работа по окружающему миру за 1 четверть, 1 вариант

**I. Подчеркните объекты живой природы.**

Облако, дождь, паук, ручей, рыба, дерево, воробей, солнце, стрекоза, арбуз, воздух

**II. Подчеркните осенние явления природы.**

Солнце восходит поздно, а заходит рано. Жарко. Ледостав. Идут дожди. Оттепель. Журчат ручьи. Опадают листья. Сильный мороз. Похолодание. Набухают почки. Метут метели. Ледоход. Река покрывается льдом. Тает снег.

**III. Укажи причину, по которой птицы улетают на юг.**

- |                     |                     |
|---------------------|---------------------|
| А. стало холодно    | В. дни стали короче |
| Б. стало мало корма | Г. часто идут дожди |

**IV. Дополните предложение**

1. Снег, дождь, град – это \_\_\_\_\_

**V. Запишите**

Семнадцать градусов тепла _____	Двадцать шесть градусов мороза _____
Пять градусов ниже нуля _____	Четырнадцать градусов выше нуля _____

**VI. Что необходимо растениям и животным для жизни?**

- А) Воздух, вода;
- Б) Солнце, вода;
- В) Солнце, воздух, вода.

**VII. Напиши по три объекта живой и неживой природы**

**Живая природа**

- 1) \_\_\_\_\_
- 2) \_\_\_\_\_
- 3) \_\_\_\_\_

**Неживая природа**

- 1) \_\_\_\_\_
- 2) \_\_\_\_\_
- 3) \_\_\_\_\_

### **VIII. Выбери верное утверждение:**

- А) Живые существа могут жить без неживой природы.
- Б) Солнце – источник света и тепла для всего живого на Земле.
- В) Живые существа могут жить без воды, воздуха, света и тепла.

### **IX. В чём отличие объектов живой природы от неживой?**

- А) Дышат, питаются;
- Б) Растут, размножаются, умирают.
- В) Дышат, питаются, растут, размножаются, умирают.

### **X. Какое созвездие хорошо видно зимой и названо по имени охотника из древнегреческих мифов?**

- А. Геракл; Б. Орион; В. Стрелец.

### **XI. Что воздух не загрязняет?**

- А. Костёр; Б. Растения; В. Отходы промышленного производства.

### **XII. Как называют прибор для измерения температуры?**

- А. Обогреватель
- В. Часы
- Б. Компас
- Г. Термометр

Контрольная работа по окружающему миру за 1 четверть, 2 вариант

#### **I. Подчеркните объекты неживой природы.**

Облако, дождь, паук, ручей, рыба, дерево, воробей, солнце, стрекоза, арбуз, воздух

#### **II. Подчеркните весенние явления природы.**

Солнце восходит поздно, а заходит рано. Жарко. Ледостав. Идут дожди. Оттепель. Журчат ручьи. Оппадают листья. Сильный мороз. Похолодание. Набухают почки. Метут метели. Ледоход. Река покрывается льдом. Тает снег.

#### **III. Отметьте группу, в которой перечислены перелётные птицы.**

- А. грач, журавль, скворец, ласточка
- В. воробей, голубь, снегирь, ворона
- Б. гусь, дятел, поползень, сова
- Г. стриж, галка, утка, орел, ворона

#### **IV. Все изменения, происходящие в природе, называются (1 б.)**

- А) Природные явления;
- Б) Сезонные явления;
- В) Погода

#### **V. Запишите**

Пятнадцать градусов тепла \_\_\_\_\_ Двадцать восемь градусов мороза \_\_\_\_\_  
Десять градусов ниже нуля \_\_\_\_\_ Семнадцать градусов выше нуля \_\_\_\_\_

#### **VI. Какой газ из состава воздуха используется для дыхания?**

- А) азот
- Б) кислород
- В) углекислый газ

#### **VII. Напиши по три объекта живой и неживой природы**

Неживая природа

Живая природа

1) \_\_\_\_\_

1) \_\_\_\_\_

- 2) \_\_\_\_\_ 2) \_\_\_\_\_  
3) \_\_\_\_\_ 3) \_\_\_\_\_

**VIII. Выбери верное утверждение:**

- А) Живые существа могут жить без неживой природы.  
Б) Солнце – источник света и тепла для всего живого на Земле.  
В) Живые существа могут жить без воды, воздуха, света и тепла.

**IX. Определи, о каком созвездии говорится:**

«Это созвездие можно увидеть летом и осенью. Оно напоминает птицу с широко раскинутыми крыльями, летящую вниз к земле. Хвост птицы отмечен особенно яркой звездой – одной из самых ярких на небе.

- А. Журавль; Б. Райская птица; В. Павлин; Г. Лебедь.

**X. Горные породы и минералы относятся:**

- А. К живой природе; Б. К неживой природе; В. К рукотворному миру.

**XI. Назови причины загрязнения воды?**

- А. Вредные вещества, выбрасываемые заводами и фабриками. Б. Дожди;  
В. Нефтепродукты.

**XII. Как называют прибор для измерения температуры?**

- А. Обогреватель                      В. Часы  
Б. Компас                                Г. Термометр

**Итоговый тест за 1 полугодие.**

**Вариант 1**

**Допиши предложения:**

1. Главный символ (эмблема) любого государства \_\_\_\_\_
2. Птица, изображенная на российском гербе \_\_\_\_\_
3. Торжественная песня – символ государства \_\_\_\_\_
4. Почва, горы, осадки, облака – это \_\_\_\_\_ природа.
5. Рыбы, растения, птицы, насекомые – это \_\_\_\_\_ природа.
6. Снег, дождь, град – это \_\_\_\_\_
7. Скопление звёзд – это \_\_\_\_\_
8. Богатства, которые человек добывает из недр земли называются \_\_\_\_\_
9. Самый важный для жизни человека газ, который входит в состав воздуха – это \_\_\_\_\_
10. Растения, которые имеют мягкие, сочные стебли – это \_\_\_\_\_
11. Растения, которые имеют листья в виде иголок называются \_\_\_\_\_
12. Растения, у которых от корня отходит один толстый стебель – ствол называются \_\_\_\_\_
13. Растения, которые выращивает человек в саду, в поле, на огороде называются \_\_\_\_\_

14. Растения, которые выращивает человек на клумбах, парках для красоты называются \_\_\_\_\_
15. Животные, у которых 6 ног называются \_\_\_\_\_
16. Животные, которые добывают для себя пищу, защищаются от врагов, сами устраивают себе жильё, выводят потомство – это \_\_\_\_\_ животные

**Итоговый тест за 1 полугодие.  
Вариант 2**

**Допиши предложения:**

1. Главный символ (эмблема) любого государства \_\_\_\_\_
2. Птица, изображенная на российском гербе \_\_\_\_\_
3. Торжественная песня – символ государства \_\_\_\_\_
4. Почва, горы, осадки, облака – это \_\_\_\_\_ природа.
5. Рыбы, растения, птицы, насекомые – это \_\_\_\_\_ природа.
6. Снег, дождь, град – это \_\_\_\_\_
7. Скопление звёзд – это \_\_\_\_\_
8. Богатства, которые человек добывает из недр земли называются \_\_\_\_\_
9. Самый важный для жизни человека газ, который входит в состав воздуха – это \_\_\_\_\_
10. Растения, которые имеют мягкие, сочные стебли – это \_\_\_\_\_
11. Растения, которые имеют листья в виде иголок называются \_\_\_\_\_
12. Растения, у которых от корня отходит один толстый стебель – ствол называются \_\_\_\_\_
13. Растения, которые выращивает человек в саду, в поле, на огороде называются \_\_\_\_\_
14. Растения, которые выращивает человек на клумбах, парках для красоты называются \_\_\_\_\_
15. Животные, у которых 6 ног называются \_\_\_\_\_
16. Животные, которые добывают для себя пищу, защищаются от врагов, сами устраивают себе жильё, выводят потомство – это \_\_\_\_\_ животные

**Проверочная работа по окружающему миру за 3 четверть  
1 вариант**

**1. С деятельностью этого органа связано мышление человека:**

- а) сердце    б) головной мозг    в) желудок

**2. Выбрать точное и полное определение «Режим дня – это»:**

- а) распорядок, в котором правильно чередуются учёба, отдых и другие занятия  
б) распорядок, в котором правильно чередуются учёба и тренировки  
в) распорядок, в котором правильно чередуются отдых и тренировки

**3. Прочитай лексическое значение слова и определи, что это «Часть дороги, предназначенная для движения пешеходов»:**

- а) проезжая часть    б) тротуар    в) зебра

**4. Чтобы избежать опасностей в доме нужно:**



- а) быть смелым б) быть рассеянным в) быть внимательным и осторожным

**5. Рассмотрите внимательно картинки и отметьте то, что может нанести вред здоровью человека:**



- а) б) в)

**6. Выбрать точное и полное определение «Семья – это»:**

- а) это люди, которые живут с тобой в одной квартире  
б) это малая социальная группа, основанная на браке, кровном родстве и связанная общностью быта, отношениями взаимопомощи и взаимной ответственностью самое, близкое окружение человека  
в) это люди, которые с тобой общаются

**7. Прочитай значение слова и определи, что это «То в нашей жизни, что передаётся от одного поколения к другому, от старших к младшим»:**

- а) увлечения б) работа в) традиции

**8. Прочитай и выбери полный ответ, чем занимаются в школе младшие школьники:**

- а) учатся, играют, отдыхают, общаются с одноклассниками  
б) учатся и играют  
в) учатся и общаются с одноклассниками

**9. Что такое «культура поведения»:**

- а) вежливые слова и вежливые поступки  
б) вежливые поступки  
в) вежливые слова

**10. Кого папа пропустит первым в дверь, выходя из магазина:**

- а) сына  
б) женщину, маму  
в) взрослого мужчину

**11. Какого правила поведения не существует в школе:**

- а) если прозвенел звонок, надо идти на урок  
б) на уроке нельзя мешать учителю вести урок  
в) на переменах можно бегать и прыгать


**12. Что не является самым ценным в дружбе?**

- а) обмен игрушками  
б) любовь и уважение к друг к другу  
в) взаимопомощь

**13. Какой кусок торта нужно взять с общего блюда:**

- а) самый красивый  
б) самый большой  
в) самый крайний

**14. Рассмотрите внимательно иллюстрации и отметьте ту, на которой зрители не правильно себя ведут в театре:**



- а) б) в)

**15. Какое насекомое не опасно:**

- а) оса б) клещ в) муравей

**16. Что при возгорании (пожаре) нельзя заливать водой?**

- а) электроприборы б) мебель в) одежду

**17. Какой орган отвечает за пищеварение?**

- а) лёгкие б) кровь  
в) сердце г) желудок

## 2 вариант

**1. С деятельностью этого органа связано мышление человека:**

- а) сердце б) желудок в) головной мозг

**2. Выбрать точное и полное определение «Режим дня – это»:**

- а) распорядок, в котором правильно чередуются учёба и тренировки  
б) распорядок, в котором правильно чередуются учёба, отдых и другие занятия  
в) распорядок, в котором правильно чередуются отдых и тренировки

**3. Прочитай лексическое значение слова и определи, что это «Часть дороги, предназначенная для движения транспортных средств»:**

- а) проезжая часть б) тротуар в) зебра

**4. Чтобы избежать опасностей в доме нужно:**

- а) быть смелым б) быть внимательным и осторожным в) быть рассеянным

**5. Рассмотрите внимательно картинки и отметьте то, что может нанести вред здоровью человека:**



а)



б)



в)

**6. Выбрать точное и полное определение «Семья – это»:**

- а) это люди, которые живут с тобой в одной квартире  
б) это люди, которые с тобой общаются  
в) это малая социальная группа, основанная на браке, кровном родстве и связанная общностью быта, отношениями взаимопомощи и взаимной ответственностью самое, близкое окружение человека

**7. Прочитай значение слова и определи, что это «То в нашей жизни, что передаётся от одного поколения к другому, от старших к младшим»:**

- а) увлечения б) работа в) традиции

**8. Прочитать и выбрать полный ответ, чем занимаются в школе младшие школьники:**

- а) учатся, играют  
б) учатся и играют, отдыхают, общаются с одноклассниками  
в) учатся и общаются с одноклассниками

**9. Что такое «культура поведения»:**

- а) вежливые слова и вежливые поступки  
б) вежливые поступки  
в) вежливые слова

**10. Кого папа пропустит первым в дверь, выходя из магазина:**

- а) сына

б) взрослого мужчину

в) женщину, маму

**11. Какого правила поведения не существует в школе:**

а) на переменах можно бегать и прыгать

б) на уроке нельзя мешать учителю вести урок

в) если прозвенел звонок, надо идти на урок

**12. Что не является самым ценным в дружбе?**

а) любовь и уважение к друг к другу

б) обмен игрушками

в) взаимопомощь

**13. Какой кусок торта нужно взять с общего блюда:**

а) самый красивый

б) самый большой

в) самый крайний

**14. Рассмотрни внимательно иллюстрации и отметь ту, на которой зрители не правильно себя ведут в театре:**



а)



б)



в)

**15. Какое насекомое не опасно:**

а) клещ      б) муравей      в) шмель

**16. Что при возгорании (пожаре) нельзя заливать водой?**

а) одежду      б) мебель      в) электроприборы

**17. Какой орган отвечает за пищеварение?**

а) лёгкие      б) кровь

в) сердце      г) желудок

## Промежуточная (итоговая) контрольная работа

### Вариант 1

*1. Перечисли цвета Государственного флага Российской Федерации (сверху вниз).*

Ответ: \_\_\_\_\_

*2. Определи, какое из созвездий не может быть в данной группе. Подчеркни его название.*      Скорпион, Лев, Кассиопея, Рак, Рыбы, Козерог, Дева, Близнецы

*3. Выбери правильный ответ. К внутренним органам относятся:*

А) лёгкие, грудь, сердце, кишечник;      Б) желудок, голова, сердце, пищевод;  
В) лёгкие, сердце, печень, желудок;      Г) печень, сердце, туловище, мозг.





Ответ: \_\_\_\_\_

12. Что относится к семейным традициям, а что – к культуре общения в семье? Соотнеси цифры с буквами. Запиши буквы в таблицу.

вкусный обед

1) семейные традиции елку

2) культура общения в семье магазина

вешать

А) благодарить бабушку за

Б) делать игрушки на новогоднюю своими руками

В) помочь маме нести сумку из

Г) каждую весну вместе с папой

скворечник в парке

Ответ:

1	
2	

13. Внимательно прочитай приведенный ниже список правил безопасности. Какие правила относятся к поведению на природе?

А) осторожно обращаться с электроприборами

Б) не играть со спичками и зажигалками

В) не разжигать костер без взрослых

14. Внимательно рассмотри знак, который можно встретить, например, рядом с асфальтированной дорогой. Какое правило установлено этим



знаком?

Напиши это правило.

15. Впиши в таблицу вежливые слова (по одному примеру в каждом столбце)

Благодарность	Приветствие	Просьба

16. Узнай по фотографиям строительные материалы. Укажи стрелками их названия.



бетонные плиты



кирпичи



брѐвна



доски

## Вариант 2

1. Перечисли цвета Государственного флага Российской Федерации (сверху вниз).

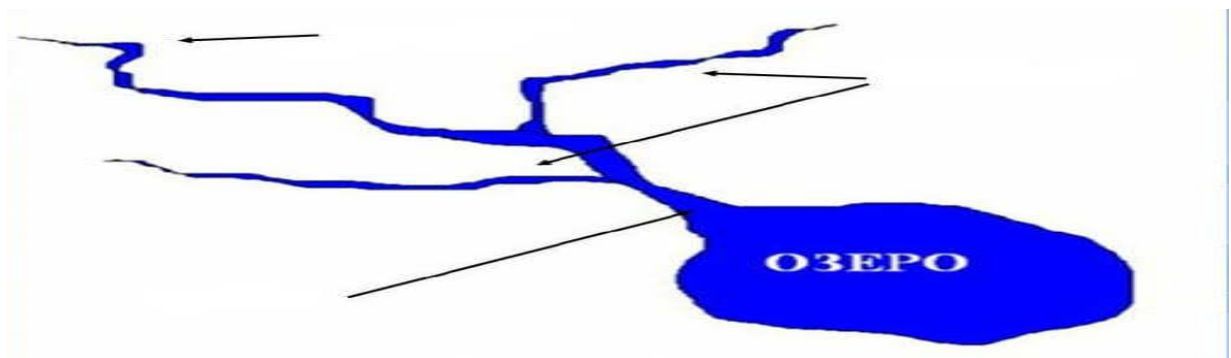
Ответ: \_\_\_\_\_

2. Определи, какое из созвездий не может быть в данной группе. Подчеркни его название. Скорпион, Лев, Рак, Рыбы, Козерог, Дельфин, Дева, Близнецы

3. Выбери правильный ответ. К частям тела относятся:

- А) туловище, грудь, сердце, ноги;      Б) руки, голова, туловище, ноги ;  
 В) лёгкие, сердце, печень, желудок;      Г) печень, сердце, туловище, мозг.

4. Подпиши части реки.



5. Прочитай внимательно. Что пропущено? Дополни запись.

Виды животных: звери, птицы, земноводные, пресмыкающиеся, насекомые, \_\_\_\_\_.

Запиши кратко главный признак этих животных.

Ответ: \_\_\_\_\_.

6. Найди примеры связи между живой и неживой природой в окружающем мире:

- а) лягушка ест комаров      б) воробей пьѐт воду из лужи      в) человек загорает на солнце      г) птица клюет червяка.

7. Сделай выводы. Закончи высказывание.

Самый маленький материк - \_\_\_\_\_

8. Какие виды растений изображены на рисунках? Подпиши названия видов.



9. Сделай вывод. Впиши пропущенные слова.

У березы больше веток \_\_\_\_\_ стороне  
Опята чаще растут \_\_\_\_\_ стороне пня..

10. Отметь правителя, который основал Москву .

А) Иван Грозный                      Б) Юрий Долгорукий                      В) Петр I

11. Узнай животное, которое занесено в Красную книгу по рисунку. Запиши название в строке ответа.



Ответ: \_\_\_\_\_

12. Что относится к семейным традициям, а что – к культуре общения в семье? Соотнеси цифры с буквами. Запиши буквы в таблицу.

1) семейные традиции

А) помыть посуду после ужина

Б) субботний обед в кругу семьи

2) культура общения в семье

В) помочь папе помыть машину

Г) зимой развешивать кормушки

Ответ:

1	
2	

13. Внимательно прочитай приведенный ниже список правил безопасности. Какие правила относятся к поведению дома?

А) осторожно обращаться с электроприборами

Б) не играть со спичками и зажигалками

В) не разжигать костер без взрослых

14. Внимательно рассмотри знак, который можно встретить, например, рядом с асфальтированной дорогой. Какое правило установлено этим



знаком?

Напиши это правило.

15. Впиши в таблицу вежливые слова (по одному примеру в каждом столбце)

Благодарность	Приветствие	Просьба

16. Узнай по фотографиям строительные материалы. Укажи стрелками их названия.



бетонные плиты



кирпичи



брёвна



доски

### Годовая контрольная работа по окружающему миру

#### I вариант

##### Базовый уровень

1. Отметь, что относится к живой природе?

книга  воробей  машина

2. На флаге России три полосы:

красная и две синие  белая, синяя и красная  белая, голубая и зелёная

3. Для роста растению нужно:

тепло, воздух, вода

тепло, воздух, свет, вода, почва

тепло, почва, свет

4. Растения, у которых один одревесневший стебель (ствол), - это

кустарник  дерево  трава

5. Животные, тело которых покрыто перьями, - это

звери  рыбы  птицы

например: \_\_\_\_\_

6. Что такое глобус?

модель Солнца  модель Земли  модель шара

7. Выбери название основной реки твоего края:

Обь  Волга  Дон

8. Сколько планет вращается вокруг Солнца?  4  6  8

9. Как называется основной Закон нашей страны?

Библией  книгой  Конституцией



**10. Запиши цифрами порядок следования дней недели:**

среда; воскресенье; четверг; вторник; понедельник; суббота, пятница.

**Повышенный уровень**

**11. Напиши зимние месяцы:** \_\_\_\_\_

Напиши дату своего дня рождения \_\_\_\_\_

**12. Зачеркни лишнее:** Африка, Англия, Антарктида, Австралия.

На каком материке мы живем? \_\_\_\_\_

**13. Перечисли океаны:**

\_\_\_\_\_

**14. Президент России** \_\_\_\_\_

**15. Подчеркни то, что относится к внешнему строению человека**

Голова, головной мозг, шея, туловище, лёгкие, сердце, руки, желудок, кишечник, ноги

**16. Заполни пропуски**

Если встать лицом к северу, сзади будет - \_\_\_\_\_, слева - \_\_\_\_\_, справа - \_\_\_\_\_

**17. Какие утверждения верны?**

- 1) Москва - столица России
- 2) В Москве находится Эрмитаж
- 3) Основатель Москвы – Юрий Долгорукий
- 4) Русский флот был создан Петром I в Москве

## Годовая контрольная работа по окружающему миру

### II вариант

#### Базовая уровень

**1. Отметь, что относится к неживой природе?**

пчела  морж  солнце

**2. На флаге России:**

две полосы  нет полос  три полосы

**3. Вода может находиться в:**

трёх состояниях  двух состояниях  пяти состояниях

**4. Растения, у которых несколько одревесневших стеблей (стволов), - это**

кустарник  дерево  трава

**5. Животные, тело которых покрыто шерстью, - это**

рыбы  звери  птицы

например: \_\_\_\_\_

**6. Как называется наука о небесных телах?**

история  география  астрономия

**7. Выбери название основной реки твоего края:**

Ока  Дон  Обь

**8. В какой строчке указаны только лиственные растения:**

саксаул, пальма, кактус

ель, сосна, лиственница

берёза, рябина, осина

**9. На каком материке располагается наша страна:**  Африка  Евразия  Австралия

**10. Укажи группу насекомых луга:**

жуки-пловцы, муравьи

жуки-короеды, майские жуки

шмели, бабочки

#### Повышенный уровень

**11. Сколько ног у насекомых?**  4 ноги  6 ног  8 ног

**12. Напиши летние месяцы:** \_\_\_\_\_

Напиши дату своего дня рождения \_\_\_\_\_

**13. Запиши цифрами порядок следования цветов радуги.**

*голубой; фиолетовый; красный; синий; зелёный; жёлтый, оранжевый.*

**14. Президент России** \_\_\_\_\_

**15. Подчеркни то, что относится к внутреннему строению человека**

Голова, головной мозг, шея, туловище, лёгкие, сердце, руки, желудок, кишечник, ноги.

**16. Заполни пропуски**

Если встать лицом к югу, сзади будет - \_\_\_\_\_, слева - \_\_\_\_\_, справа - \_\_\_\_\_

**17. Какие утверждения верны?**

- 1) Москва - столица России
- 2) В Москве находится Эрмитаж
- 3) Основатель Москвы – Юрий Долгорукий
- 4) Русский флот был создан Петром I в Москве